

A Kitapçığı

YAKIN DOĞU İLKOKULU

2014-2015 DERS YILI

4.SINIF 2.SEVİYE TESPİT SINAVI

06 MAYIS 2015 ÇARŞAMBA

Adı – Soyadı:.....

Not:.....

Sınıf :.....

Süre: 90dk.

1.OTURUM SORU KİTAPÇIĞI

TÜRKÇE- SOSYAL BİLGİLER- FEN VE TEKNOLOJİ

GENEL AÇIKLAMA

1. Bu kitapçık Türkçe – Sosyal Bilgiler - Fen ve Teknoloji sorularını içermektedir. Kitapçık 19 sayfadan oluşmaktadır.
2. Dağıtılan cevap kağıdının üzerine adınızı, soyadınızı ve sınıfınızı okunaklı bir şekilde yazınız.
3. Bu test 30 Türkçe, 10 Sosyal Bilgiler ve 10 Fen ve Teknoloji sorusundan oluşmaktadır. (Toplam 50 soru) Tüm soruları yanıtlamanız için size 90 dakikalık süre verilecektir.
4. Her sorunun 4 seçeneği vardır. Doğru yalnız bir tanesidir. Doğru cevabın harfini kurşun kalemle iyice karalayınız.
5. Bir soruda iki seçenek karalanırsa o soru yanlış olarak değerlendirilir.
6. Cevap kağıdını karalamayınız ve kirlenmeyiniz.
7. Bilmediğiniz soru üzerinde fazla zaman harcamayınız. Zamanınız kalırsa tekrar dönersiniz.

FEN VE TEKNOLOJİ TESTİ

Uçan Gemi Ve Barış

Yıl 2055... Dünyada bir savaş, bir savaş ki sormayın gitsin... Masum insanlar ne olduğunun daha yeni farkına varıyorlar. Ancak, bir grup var ki, sanki olacakları önceden biliyor. Bu grubun adı "Barışçı Çocuklar". Bu çocukların uçan bir gemileri de var. Gemi öyle inanılmaz ki, anlatmak gerçekten zor. Geminin bir kısmı dostluk ve kardeşliği, bir kısmı bilimin mucizelerini, yelkenleriyse barışı simgeliyor. Barışçı Çocuklar, bu gemiyle tüm dünyayı dolaşıyorlar. Elbette, bu arada çok kötü manzaralarla karşılaşılıyorlar. Ama morallerini hiç bozmadan yeni çözümler düşünüyorlar.

Bir gün gemiyle uzayda dolaşırken üç yıldız görüyorlar. Birinci yıldızın üzerinde kardeşlik ilacı, ikinci yıldızın üzerinde barış ilacı ve üçüncü yıldızın üzerinde ise bilim ilacı buluyorlar. Sonra dünyaya gidip bu ilaçları tüm dünyaya yayıyorlar. Böylece inanılmaz bir şey gerçekleşiyor. Birkaç dakika önceki savaşlar, yerini dostluğa ve barışa bırakıyor. "Barışçı Çocuklar" da dahil olmak üzere, tüm dünya çok mutlu oluyor.

Aşağıdaki dört soruyu (1., 2., 3. ve 4.) yukarıdaki parçaya göre yanıtlayınız.

Soru 1. Barışçı çocuklar uzayda dolaşırken hangisinin ilacını bulamıyorlar?

- A) Kardeşlik ilacı
- B) Dostluk ilacı
- C) Bilim ilacı
- D) Barış ilacı

FEN VE TEKNOLOJİ TESTİ

Soru 2. Gelecek için uyarlanan bu hikayeden çıkarılabilecek en kapsamlı sonuç, aşağıdakilerden hangisidir?

- A) Geleceği, yalnız ve ancak barışa ve kardeşliğe inan çocuklar kurtaracaktır.
- B) İnsanların bugünkü durumları ne olursa olsun gelecekte mutlaka barış içinde yaşayacaklardır.
- C) İnsanların gelecekteki mutluluğu, uzayda yapılacak araştırmalara bağlıdır.
- D) Gelecek yıllarda insanlar için barış, mutluluk ve kardeşliğin anahtarı bilim olacaktır.

Soru 3. Aşağıdakilerden hangisi geminin özelliklerinden biri değildir?

- A) Geminin bir kısmı dostluk ve kardeşliği simgeliyor.
- B) Geminin bir kısmı bilimin mucizelerini simgeliyor.
- C) Bu gemi havada uçabiliyor.
- D) Gemi sadece denizde yüzüyor.

Soru 4. Parçaya göre barışı simgeleyen aşağıdakilerden hangisidir?

- A) Barışçı çocuklar.
- B) Geminin bir kısmı.
- C) Geminin yelkenleri.
- D) Uzayda dolaşırken gördükleri yıldızlar.

FEN VE TEKNOLOJİ TESTİ

Soru 5. Aşağıdaki sözcüklerin yanındaki kutulara somut isim ise “x” soyut isim ise “+” koyacak olursak, kaç sözcüğün önüne “+” koymamız gerekecek?

Kaygı	<input type="checkbox"/>	Korku	<input type="checkbox"/>	Tebeşir	<input type="checkbox"/>
Masa	<input type="checkbox"/>	Balık	<input type="checkbox"/>	Üzüntü	<input type="checkbox"/>
Kader	<input type="checkbox"/>	Hava	<input type="checkbox"/>	Sürü	<input type="checkbox"/>

- A) 4
- B) 5
- C) 3
- D) 6

Soru 6.

Mavi elbiseyi annem bana bayramda giymek için aldı.

Yukarıdaki cümlede altı çizili olan sözcüklerin türü, sırası ile hangi seçenekte doğru olarak verilmiştir?

- A) İsim – sıfat – zamir – isim
- B) Sıfat – isim – zamir – isim
- C) İsim – isim – sıfat – isim
- D) Sıfat – isim – sıfat – isim

Soru 7. “ Görmüş” fiili için aşağıdakilerden hangisi doğrudur?

- A) - di’li geçmiş zaman – 1. Tekil kişi
- B) - miş’li geçmiş zaman – 1. Tekil kişi
- C) şimdiki zaman – 3. Tekil kişi
- D) - miş’li geçmiş zaman – 3. Tekil kişi

FEN VE TEKNOLOJİ TESTİ

Soru 8. “Çelik kasayı açıp bankayı soydular” cümlesinde geçen isim tamlamasının benzeri aşağıdaki cümlelerin hangisinde vardır?

- A) Sarı elbiseni yemek yerken kirlettin.
- B) Ahmet, olimpiyatlarda altın madalya kazandı.
- C) Ali'nin babası parmağını kesti.
- D) Çam ağacının dalı koptu.

Soru 9.

Tomurcuklar büyür gül olur birgün,
Saniyeler geçer yıl olur bir gün;
Üç kuruş, beş kuruş deyip geçmeyin,
Damlaya damlala göl olur bir gün.

Yukarıdaki dördlük bize genel olarak neyi öğütlemektedir?

- A) İyi bir eğitim görmeyi.
- B) Tutumlu olmayı.
- C) Zeki, çalışkan ve araştırmacı olmayı.
- D) Sabırlı olmayı.

Soru 10.

Şu kalemleri bana öğretmenim verdi. Bunları ise, annem kırtasiyeden aldı. Ben kırtasiyeciden şu kitapları satın aldım. Onlar, benim tüm ihtiyaçlarımı karşıladığı için, dedemi ve babamı çok severim. Doğum gününe hepsini davet edeceğim.

Yukarıdaki paragrafta geçen kelime halindeki zamirler kaç tenedir?

- A) 8
- B) 7
- C) 6
- D) 5

FEN VE TEKNOLOJİ TESTİ

Soru 11. Sözlük sırasına konduğunda hangisi en sonda yer alır?

- A) Sabah
- B) Saray
- C) Sanat
- D) Salı

Soru 12. Hangi kelimedede yazım yanlışı yoktur?

- A) Unutgan
- B) Soğuktan
- C) Sınıfda
- D) Çiçekci

Soru 13. Aşağıdaki cümlelerin hangisinde niteleme sıfatı yoktur?

- A) Kırmızı araba çukura düştü.
- B) Çalışkan öğrenciler çok sevilir .
- C) Küçük kız durmadan ağlıyordu.
- D) Yaşlılara yardım etmeyi hepimiz teşvik etmeliyiz.

Soru 14. Aşağıdaki cümlede, altı çizili sıfatların çeşidini sıra ile hangi seçenek göstermektedir.

Yirmi öğrenci, birer sandalye olarak ikinci kata çıktı.

- A) Asıl sayı sıfat - Üleştirme sayı sıfatı - Sıra sayı sıfatı
- B) Asıl sayı sıfat - Sıra sayı sıfatı - Üleştirme sayı sıfatı
- C) Asıl sayı sıfat - Kesir sayı sıfatı - Üleştirme sayı sıfatı
- D) Asıl sayı sıfat - Belgisiz sıfat - Sıra sayı sıfatı

Erik Ağacı
Elveda benim
Her mevsim dalları meyveden kırılan,
Sıksa, çelimsiz
Ama son yaprağına, son eriğine kadar
Cömert erik ağacım.
Ne zaman yolum düşse,
Gözlerimi yumup seni hatırlayacağım.

15. 16. ve 17. Soruları yukardaki şiire göre yanıtlayınız?

Soru 15. Erik ağacının özellikleri, aşağıdaki seçeneklerin hangisinde dile getirilmiştir?

- A) Eğri, kuru ve meyvesiz olması
- B) Yeşil, uzun ve meyve yüklü olması
- C) Zayıf, güçsüz ama verimli olması
- D) Yapraklarının dökülmüş olması

Soru 16. Şairin “Gözlerimi yumup seni hatırlayacağım.” Sözlerinden nasıl bir sonuç çıkarılabilir?

- A) Şair ağaca iyi bakmaktadır.
- B) Ağaç sonbaharda kurumuştur.
- C) Şair, değişik türde ağaçlar istemektedir.
- D) Ağaç, artık eski yerinde değildir.

Soru 17.Şair ikinci dizedeki “Her mevsim dalları meyveden kırılan” sözleri ile ne anlatmak istemektedir?

- A) Ağacın dalları ağırlıktan kırılmıştır.
- B) Çocuklar meyve toplamak için ağacın dallarını kırmaktadırlar.
- C) Ağaç çok meyve vermektedir.
- D) Dalları kırıldığı için ağaç kurumuştur.

FEN VE TEKNOLOJİ TESTİ

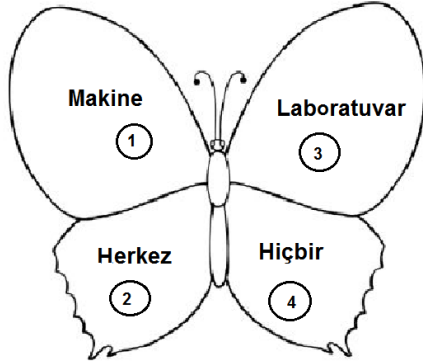
Soru 18.Aşağıda, altı çizili olan sözcüklerin hangisinde “ufak, küçük” anlamı vardır?

- A) Tarlada gelincikler çiçek açmış.
- B) Gözümde arpacık çıktı.
- C) Bademcik ameliyatı olacağım.
- D) Bu kuzucuk ne kadar sevimli değil mi?

Soru 19. “Evin önün- duran bisiklet- bahçe- koy.” cümlesine anlam kazandırmak için, altı çizili olan sözcükler, sırası ile ismin hangi hal eklerini almalıdır?

- A) -den, -e, -i
- B) -e, -i, -de
- C) -de, -i, -e
- D) -i, -de, -den

Soru 20.

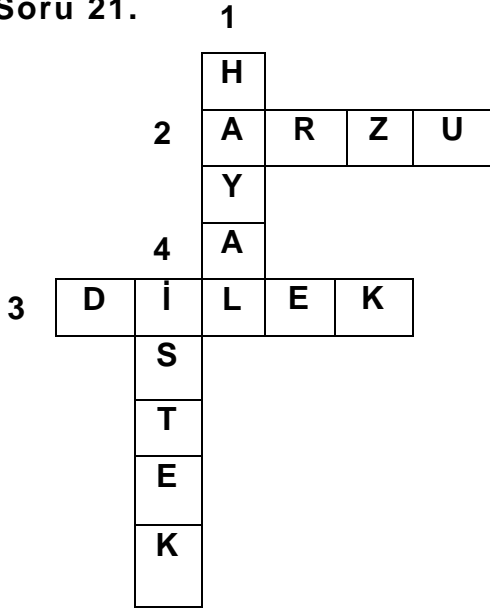


Yukarıdaki kelebeğin uçabilmesi için kanatlarındaki sözcüklerden yazım yanlışı olanın düzeltilmesi gerekmektedir. Buna göre düzeltilmesi gereken sözcük hangi numaralı kanattadır?

- A) 2
- B) 1
- C) 4
- D) 3

FEN VE TEKNOLOJİ TESTİ

Soru 21.



Yukarıdaki bulmacada yer alan sözcüklerden biri diğerlerinin eş anlamlısı değildir. Bu sözcük hangi numaralı sözcüktür?

- A) 4
- B) 3
- C) 2
- D) 1

Soru 22.

Dağlara, denizlere, ovalara
Uzansaydık yağarak iplik, iplik,
Tohumları susamış topraklara
Bahar, gölge ve yağmur götürseydik.

Yukarıdaki dördlükte konuşurulan varlık aşağıdakilerden hangisidir?

- A) Yağmur
- B) Kar
- C) Rüzgar
- D) Bulut

FEN VE TEKNOLOJİ TESTİ

Soru 23. Öğretmen, öğrencilerinden içinde “göz” sözcüğü geçen deyimlere örnek vermelerini istemiştir. Buna göre aşağıdaki öğrencilerden hangisi yanlış yapmıştır.

A)



B)



C)



D)



FEN VE TEKNOLOJİ TESTİ

Soru 24. Aşağıdaki numaralanmış cümleler neden-sonuç ilişkisi oluşturacak şekilde sembollerle gösterilen cümlelerle eşleştirildiğinde, hangi sembol dışta kalır?

1. Sabah erken kalkamayınca

2. Hava sıcak olduğundan

3. Köpek besliyor çünkü

★ Hayvanları seviyor

♥ Çöpe attık

▲ Çok terlemiş

■ Okula geç kalmış

- A) ♥
B) ★
C) ▲
D) ■

Soru 25. Her insan yaptığı iş üstüne düşünür. Bundan daha doğal bir şey olamaz. Bir terzi, bir ayakkabıcı, bir doktor, bir öğretmen yaptığı işin inceliklerini ne kadar iyi bilirse bilsin yine de düşünür. Bilinenin dışına çıkmak yeni yöntemler bulmak için sürekli bir arayış içindedir.

Yukarıdaki parçada esas anlatılmak istenen aşağıdakilerden hangisidir?

- A) Her insan mesleği için yeni yollar, yöntemler arar.
B) Her insan kendi işinin sırlarını iyi bilir.
C) İnsan düşünen bir varlıktır.
D) Her işin kendine göre bir zorluğu vardır.

FEN VE TEKNOLOJİ TESTİ

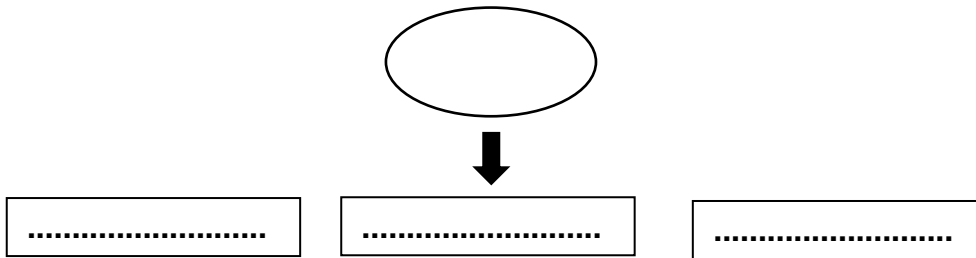
Soru 26. Aşağıda bazı atasözleri ve karşılarında parantez içinde kısaca anlamları verilmiştir. Hangi atasözünün anlamı yanlış verilmiştir?

- A) İşleyen demir pas tutmaz. (Çalışkanlık)
- B) Söz gümüşse sükut altındır. (Dinleme)
- C) Sakla samanı gelir zamanı. (Cimrilik)
- D) Bir elin nesi var iki elin sesi var. (Birliktelik)

Soru 27. Aşağıdaki cümlelerin hangisinde “ağır” sözcüğü gerçek anlamı dışında kullanılmıştır.

- A) Hasan, oldukça ağır bir çanta taşıyor.
- B) Gülçin, arkadaşlarına çok ağır konuştu.
- C) Kardeşim büyüdükçe çok ağırlaştı.
- D) Ağır olduğu için kasayı yerinden kıpırdatamadılar.

Soru 28. Öğretmen sınıfta bir etkinlik yapmaktadır. Çocuklardan “sanat” sözcüğü ile aynı kavram alanının paylaşılan sözcüklerin boş bırakılan yerlere yazılmasını istemektedir. Aşağıdakilerden hangisi dışta kalır?



- A) Müzik
- B) Tiyatro
- C) Resim
- D) Spor

FEN VE TEKNOLOJİ TESTİ

Soru 29. “Anneme, anneler gününde beyaz bir gül verdim.” Cümlesinde eşsesli olan sözcük hangisidir?

- A) Gül
- B) Beyaz
- C) Anneme
- D) Verdim

Soru 30. Aşağıdaki sözcüklerden hangisi hecelerine yanlış ayrılmıştır?

- A) Çanakkale → Ça – nak – ka – le
- B) Beyarmudu → Be – yar – mu – du
- C) Başöğretmen → Ba – şöğ – ret – men
- D) Yeşilova → Ye – şil – o – va

**TÜRKÇE TESTİNİZ BİTMİŞTİR.
YANITLARINIZI KONTROL EDEREK SOSYAL BİLGİLER TESTİNE GEÇİNİZ.**

FEN VE TEKNOLOJİ TESTİ

Soru 31. Aşağıdaki ürünlerden hangisini satın alırken öncelikle üretim tarihi ile son kullanım tarihine özellikle dikkat etmemiz gerekir?

- A) Bisiklet
- B) Kitap
- C) Süt
- D) Top

Soru 32. Parayı ilk olarak kimler kullanıldı?

- A) Mısırlılar
- B) Lidyalılar
- C) Türkler
- D) İngilizler

Soru 33.

İcat edildikten sonra ulaşım araçlarında büyük bir gelişme sağlanmış ulaşım kolaylaşmıştır

Bu icat aşağıdakilerden hangisidir?

- A) Lastik
- B) At arabası
- C) Nal
- D) Tekerlek

Soru 34. Demokratik bir ülkede yaşayan insanların hak ve sorumluluklarını gösteren kuralların bütününe ne ad verilir?

- A) Kanun
- B) Anayasa
- C) Tüzük
- D) Yönetmelik

FEN VE TEKNOLOJİ TESTİ

Soru 35. Aşağıdakilerden hangisi kent veya beldelerde açılacak olan yeni oyun parkı veya mevcut oyun parklarının bakımı ile ilgili sorunlu kurumdur?

- A) Polis
- B) İçişleri Bakanlığı
- C) Kaymakam
- D) Belediye

Soru 36. Bir vatandaşa ikametgah belgesini aşağıdakilerden hangisi verir?

- A) Muhtar
- B) Belediye Başkanı
- C) İçişleri Bakanı
- D) Polis komutanlığı

Soru 37. Sivil toplum örgütleri, halkın ihtiyaç duydukları alanlarda gönüllü insanların oluşturdukları örgütlerdir. Buna göre aşağıdakilerden hangisi bir sivil toplum örgütü olamaz?

- A) Turizm, Kültür ve Spor Bakanlığı
- B) Trafik Kazalarını Önleme Derneği
- C) Tüketiciler Derneği
- D) Yenicami Türk Spor Kulübü

FEN VE TEKNOLOJİ TESTİ

Soru 38.

Alışveriş Listesi

- 1 kg fasulye
- 2 kg domates
- 3 kg et
- 4 paket süt
- 2 çikolata
- 3 şişe kola
- 1 düzine yumurta

Yukarıda, bir ailenin alışveriş listesini görüyorsunuz. Buna göre aşağıda verilerden hangisi yanlıştır?

- A) Fasulye, yumurta ve süt temel ihtiyaçlarımızdandır.
- B) Çikolata ve kola canımızın istediği, sevdiğimiz besinlerdir.
- C) Listede yazılı olanların tümü temel ihtiyaçlarımızdır.
- D) Kola ve çikolatayı almasak da olur.

Soru 39. K. K. T. C.' de gerek yerel ve gerekse genel seçimlerde oy kullanabilmek için bazı koşullar vardır. Aşağıdakilerden hangisi bu koşullardan bir tanesidir?

- A) Evli olmak
- B) Erkek olmak
- C) 18 yaşını tamamlamış olmak
- D) Kimlik kartı sahibi olmak

Soru 40. K. K. T. C.' de Cumhurbaşkanlığı seçimleri kaç yılda bir yapılır?

- A) 4
- B) 5
- C) 3
- D) 6

**SOSYAL BİLGİLER TESTİNİZ BİTMİŞTİR.
YANITLARINIZI KONTROL EDEREK FEN VE TEKNOLOJİ TESTİNE GEÇİNİZ.**

FEN VE TEKNOLOJİ TESTİ

Soru 41.

- Varlıkları hareket ettiren etkiye kuvvet denir.
- Yıldızlar doğal ışık kaynağıdır.
- Dünyanın şekil ve hareketlerini inceleyen bilim dalına Astroloji denir.
- Köpek havlaması doğal ses kaynağıdır.

Yukarıdaki bilgilerden kaç tanesi doğrudur?

- A) 1
- B) 2
- C) 3
- D) 4

Soru 42. Dünyamızın katmanları içten dışa doğru sıralanışı, hangi seçenekte doğru olarak verilmiştir?

- A) Ateş küre - Taş küre - Su küre - Atmosfer - Çekirdek
- B) Taş küre - Su küre - Ateş küre - Çekirdek - Atmosfer
- C) Atmosfer - Su küre - Taş küre - Ateş küre - Çekirdek
- D) Çekirdek - Ateş küre - Taş küre - Su küre - Atmosfer

Soru 43.

Ben yer kabuğuyum, çok incedir yüzeyim. Kırılğım, narinim. Kıvrılır dağ olurum, aşınır ovaları oluştururum. Çukur yerlerimde su birikir. Onlara da deniz veya okyanus denir. Ne az ne de çok sığım. Canlılarla birlikteyim.

Yukarıda kendisini anlatmaya çalışan varlık, dünyamızın hangi katmanıdır?

- A) Ağır küre
- B) Taş küre
- C) Ateş küre
- D) Hava küre

FEN VE TEKNOLOJİ TESTİ

Soru 44. Ekonomik değeri olan ve genellikle yer altından çıkarılan minerallere ne ad verilir?

- A) Jeolog
- B) Erozyon
- C) Maden
- D) Altın

Soru 45. Mehmet Öğretmen'in evi ana caddenin üzerinde bulunmaktadır. Trafik yoğunluğundan, korna seslerinden müthiş rahatsız olmaktadır. Mehmet Öğretmen kendisini rahatsız eden bu aşırı gürültüden kurtulmak için nasıl bir tedbir almalıdır?

- A) Evine ses yalıtımı yapmalıdır.
- B) Ses azaltımı yapmalıdır.
- C) Evine ses düzeni kurmalıdır.
- D) Kulaklarını sesleri işitmemek için kapatmalıdır.

Soru 46.

- Yürürken koşmaya başlayan çocuk.
- Evin duvarına çarpan araba.
- Yaydan çıkan ok.
- 100 metre yarışına başlayan çocuk.

Yukarıda belirtilen durumların kaç tanesinde hızlanan hareket vardır?

- A)1
- B)2
- C)3
- D)4

FEN VE TEKNOLOJİ TESTİ

Soru 47. Toprağın su, rüzgar ve canlıların etkisi ile taşınması olayına ne denir?

- A) Toprağın sürüklenmesi
- B) Toprağın yok olması
- C) Toprağın verimini kaybetmesi
- D) Toprak aşınması (Erozyon)

Soru 48. Toprağın oluşumunu sağlayan etmenler aşağıdakilerden hangileridir?

- A) Rüzgar - Mineraller - Yıldızlar
- B) Yağmur - Güneş - Ay
- C) Rüzgar - Isı değişimi - Yağmur
- D) Güneş - Ay - Yıldızlar

Soru 49. Aşağıdakilerden hangisi bir madde değildir?

- A) Su
- B) Hava
- C) Gaz
- D) Işık

Soru 50. Aşağıdaki durumların hangisinde hem çekme ve hem de itme kuvveti uygulanmaktadır?

- A) Öğretmen masasının hareket ettirilmesi.
- B) Mutfak dolabının kapısının açılması.
- C) Perdenin kapanması.
- D) Sandalın küreklerle hareket ettirilmesi.

FEN VE TEKNOLOJİ TESTİNİZ BİTMİŞTİR. YANITLARINIZI KONTROL EDİNİZ.