

YAKIN DOĞU İLKOKULU

2015-2016 DERS YILI

5.SINIF 2.BURS SIRALAMA VE SEVİYE TESPİT SINAVI

30 MART 2016 ÇARŞAMBA

Adı – Soyadı:.....

Not:.....

Sınıf :.....

Süre: 90dk.

1.OTURUM SORU KİTAPCIĞI

SOSYAL BİLGİLER - FEN VE TEKNOLOJİ - TÜRKÇE

GENEL AÇIKLAMA

1. Bu kitapçık Sosyal Bilgiler - Fen ve Teknoloji - Türkçe sorularını içermektedir. Kitapçık 18 sayfadan oluşmaktadır.
2. Dağıtılan cevap kağıdının üzerine adınızı, soyadınızı ve sınıfınızı okunaklı bir şekilde yazınız.
3. Bu test 10 Sosyal Bilgiler, 10 Fen ve Teknoloji ve 30 Türkçe sorusundan oluşmaktadır.
(Toplam 50 soru) Tüm soruları yanıtlamanız için size 90 dakikalık süre verilecektir.
4. Her sorunun 4 seçeneği vardır. Doğru yalnız bir tanesidir. Doğru cevabın harfini kurşun kalemle iyice karalayınız.
5. Bir soruda iki seçenek karalanırsa o soru yanlış olarak değerlendirilir.
6. Cevap kağıdını karalamayın ve kirlermeyiniz.
7. Bilmediğiniz soru üzerinde fazla zaman harcamayınız. Zamanınız kalırsa tekrar dönersiniz.

SOSYAL BİLGİLER TESTİ

SORU 1. Thomas Alva Edison hakkında aşağıda bazı bilgiler verilmiştir. Hangisi yanlıştır?

- A) Yedi yaşında ailesi ile birlikte Michigan'daki Port Huron'a yerleşti ve ilköğretimine orada başladı.
- B) Derslerini anlayamadığı gerekçesi ile okuldan atıldı.
- C) Karbon Flamanlı ilk elektrik ampülünü yaptı
- D) Atom bombasını icat etti.

SORU 2. Ulaşım olanaklarının inanılmaz bir şekilde gelişmesini sağlayan en önemli buluş aşağıdakilerden hangisidir?

- A) Tekerleğin bulunuşu
- B) Otomobilin yapılışı
- C) Trenlerin bulunuşu
- D) Uçakların havada uçması

SORU 3. İlk otomobil hangi tarihte icat edildi?

- A) 1536'da
- B) 1789'da
- C) 1605'te
- D) 1879'da

SORU 4. Öğretmenimiz İzzet Bey, yeni bir bulaşık makinesi aldı. Kısa bir süre sonra arızalandı. Aldığı firma bulaşık makinesini değiştirmeye veya parasını iade etmeye yanaşmadı. Bu durumda haksızlığa uğrayan İzzet Bey'in aşağıdaki kurumların hangisinden öncelikle yardım istemesi gerekir?

- A) Bulunduğu bölgenin muhtarı veya belediye başkanından
- B) Tüketiciler Derneği'nden
- C) Kızılay'dan
- D) Sosyal Yardım Dairesinden

SOSYAL BİLGİLER TESTİ

SORU 5. Aşağıda CMC (Cyprus Mine Cooperation) hakkında bazı bilgiler verilmiştir. Bunlardan hangisi yanlıştır?

- A) CMC yabancı bir maden şirkettir.
- B) Lefke Kasabası ve yakın çevresinde kurulmuştur.
- C) Yer altından gümüş ve demir madeni çıkarmak için kurulmuştur.
- D) 1974 yılında faaliyetlerini durdurmuştur.

SORU 6. Aşağıdakilerden hangisi sivil toplum örgütlerinin yararları arasında yer almaz?

- A) Örgüt içinde para kazanmak
- B) Toplumda sosyal dayanışmayı sağlamak
- C) Toplumda sosyal yardımlaşmayı sağlamak
- D) Demokrasilerin ve toplumların gelişmesinde önemli rol oynamak

SORU 7. İlk matbaayı bulan ilim adamı aşağıdakilerden hangisidir?

- A) J. Gutenberg
- B) Marconi
- C) Thomas Alva Edison
- D) Louis Pasteur

SORU 8. Teknolojik ürünler insan hayatını kolaylaştırması yanında, iyi kullanılmadığı takdirde gerek sağlık gerekse sosyal yönden de bir takım zararları vardır. Aşağıdakilerden hangisi bu zararlardan biri değildir ?

- A) Bilgisayarın iletişim aracı olarak kullanılması
- B) Cep telefonlarının bir takım sağlık sorunlarına neden olması
- C) Teknolojinin silah olarak kullanılması
- D) Televizyonun sosyal ilişkileri zayıflatması

SOSYAL BİLGİLER TESTİ

SORU 9. Bir ülkede Sivil toplum örgütlerinin fazla sayıda kurulmuş olması ve insanların da tereddüt etmeden bu örgütlere katılması, o ülkede öncelikle aşağıdakilerden hangisinin gelişmiş olduğunu gösterir?

- A) Demokrasinin
- B) Ekonominin
- C) Sanayinin ve ticaretin
- D) İletişimin

SORU 10.

“Bulduğu bilgi ile yetinmeyen bilim adamı, bilgilerini sürekli sorgular”

Yukarıdaki söze göre aşağıdakilerden hangisi bir bilim insanının özelliği olamaz?

- A) Araştırmaya önem verir.
- B) Çevresini sürekli gözlemler.
- C) İnsanlığın yararına çalışır.
- D) Eski bilgileri reddeder.

SOSYAL BİLGİLER TESTİNİZ BİTMİŞTİR.

YANITLARINIZI KONTROL EDEREK FEN VE TEKNOLOJİ TESTİNE GEÇİNİZ.

FEN VE TEKNOLOJİ TESTİ

SORU 11. Güneş tutulması ile ilgili verilen ifadelerden hangileri doğrudur?

- 1.Ay'ın gölgesi Dünya'nın üzerine düşer.
- 2.Dünyanın sadece bir kısmında görülür.
- 3.Dünya, Güneş ile Ay arasındadır.

- A) Yalnız 1
- B) 1 ve 2
- C) 2 ve 3
- D) 1, 2 ve 3

SORU 12. Sesin yayılma hızı bulunduğu ortama bağlı olarak değişir.

Buna göre sesin havada, suda ve tahtada yayılma hızlarının büyükten küçüğe doğru sıralaması nasıl olmalıdır?

- A) Hava- su- tahta
- B) Tahta- hava- su
- C) Tahta- su- hava
- D) Hava- tahta- su

SORU 13. Bütün canlılar gibi bitkilerin de solunum yaptıklarını biliyoruz. Buna göre bitkiler, solunum için havanın içindeki hangi gazı kullanırlar ?

- A) Oksijen
- B) Karbon monoksit
- C) karbon dioksit
- D) Azot

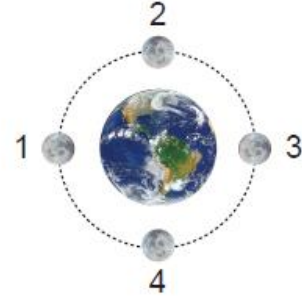
FEN VE TEKNOLOJİ TESTİ

SORU 14. Ay'ın Dünya çevresindeki hareketinin hangi notsında Ay tutulması gerçekleşir?

- A) 1
- B) 2
- C) 3
- D) 4



GÜNEŞ



SORU 15. Elif'in Fen Bilimleri dersinde öğretmenin sorduğu soruya cevabı aşağıda verilmiştir?



Elif

Bitkiler, hayvanlar
mikroskopik canlılar,
mantarlar.

Buna göre öğretmenin sorusu aşağıdakilerden hangisi olabilir?

- A) Karada yaşayan canlılar nelerdir?
- B) Genel olarak canlıları nasıl sınıflandırırız?
- C) Üreme şekillerine göre canlılar nasıl sınıflandırılır?
- D) Beslenme çeşidine göre canlılar nasıl sınıflandırılır?

SORU 16.

- Karada ve suda yaşarlar.
- Derileri pullarla ve kemik tabakayla
- Yumurta ile çoğalırlar.
- Yavrularını sütle beslerler.
- Vücutları tüylerle kaplıdır.

Verilen özelliklerden kaç tanesi sürüngenlere ait bir özelliktir?

- A) 1
- B) 2
- C) 3
- D) 4

FEN VE TEKNOLOJİ TESTİ

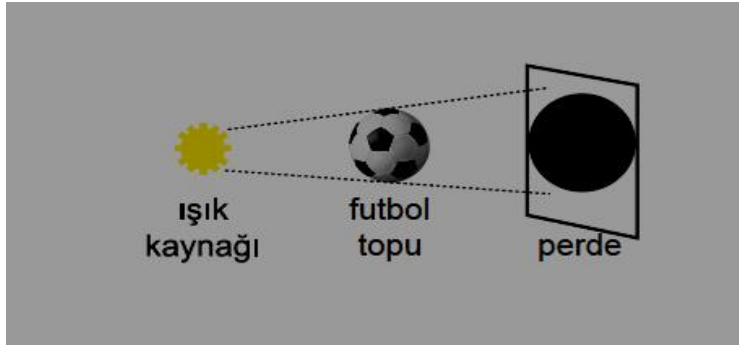
SORU 17. Sesin boşlukta yayılmadığını kanıtlayan örnek aşağıdakilerden hangisinde verilmiştir?

- A) Denizde ilerleyen bir motorun sesi
- B) Güneş'teki patlamaların sesi
- C) Rüzgarın uğultusunun sesi
- D) Şelaleden dökülen suyun sesi

SORU 18. Sesle ilgili verilen ifadelerden hangisi doğrudur?

- A) Katılar, sesin yayılmasını engeller.
- B) Işığın geçmediği maddelerde ses yayılmaz.
- C) Ses, sıvılarda gazlardan daha iyi yayılır.
- D) Ses boşlukta (uzayda) en iyi yayılır.

SORU 19.



Verilen düzenekte perde futbol topuna doğru yaklaştırılırsa, tam gölgenin boyu nasıl değişir?

- A) Küçülür
- B) Büyür
- C) Değişmez
- D) Kaybolur

FEN VE TEKNOLOJİ TESTİ

SORU 20. Aşağıdaki kutucuklardan hangisinde sadece ot ile beslenen canlılar verilmiştir?

A) Ayı
Timsah
Kedi

B) Koyun
At
İnek

C) Serçe
Tilki
Kaplan

D) Kartal
Aslan
Balina

FEN VE TEKNOLOJİ TESTİNİZ BİTMİŞTİR. YANITLARINIZI KONTROL EDİNİZ.

TÜRKÇE TESTİ

Bir padişah acemi bir köle ile gemiye binmişti. Köle hiç deniz görmemiş, gemiye hiç binmemişti. Korkudan ağlamaya, inlemeye başladı ve herkesi rahatsız etti. Avutmak için çok uğraştılar ama bir türlü sakinleşmedi. Padişahın keyfi kaçtı. Gemide yaşlı bir adam vardı. Köleyi susturabileceğini belirtip padişahın izniyle adamı denize attı. Köle birkaç kez suya battı çıktı. Boğulmak üzereydi. Köleyi tekrar gemiye çıkardılar. Boğulmaktan kurtulan köle gemiye sıkı sıkı tutundu ve bir köşede uslu uslu oturmaya başladı. Yaşlı adamın yaptığı iş padişahı hayrete düşürdü.

(21., 22. ve 23. soruları bu parçaya göre cevaplayınız.)

SORU 21. Aşağıdakilerden hangisi bu parçadaki altı çizili sözcüklerden herhangi birinin açıklaması değildir?

- A) Teselli etmek, yatıştırmak.
- B) Belirli bir süre birinin dikkat ve ilgisini başka bir şey üzerine çekmek.
- C) Beklenmedik, garip bir şeyin sebep olduğu şaşkınlık.
- D) Bir işin yabancısı olan, eli işe alışmamış.

SORU 22. Bu parçayla ilgili aşağıdakilerden hangisi söylenemez?

- A) Parçada bir olay anlatılmıştır.
- B) Bilgi vermek amacıyla bilimsel bir konuda yazılmıştır.
- C) Parçada deyimlere yer verilmiştir.
- D) Parçada görme ve işitme duyularına yer verilmiştir.

SORU 23. Bu parçayla verilmek istenen ders aşağıdakilerden hangisidir?

- A) Bir arada yaşamının gerektirdiği kurallara uymalıyız.
- B) Acemisi olduğumuz bir işe asla bulaşmamalıyız.

FEN VE TEKNOLOJİ TESTİ

C) Bir felaketle karşılaştığımızda içinde bulunduğumuz huzurun kıymetini daha iyi anlarız.

D) Yaşlılar, kimsenin çözemediği bir problemi rahatlıkla çözebilir.

SORU 24.



(1)Gösterişli bir salonda nikah kıyılacaktı, nikah memuru ve konuklar salondaki yerlerini aldılar. (2) Gelin ve damat kol kola, müzik eşliğinde içeri girdiler. (3) Töreni seyredenler arasında iki yaramaz çocuk da vardı. (4) Çocuk, damada yaklaştı ve “Baba!” dedi. (5) Yaramazlardan biri ötekine : “Bak şimdi! Adamı nasıl korkutacağım!” dedi.

Yukarıdaki parçanın anlam bütünlüğü bazı cümlelerin yer değiştirmesi sonucu bozulmuştur. Bu bütünlüğün sağlanması için numaralı cümlelerden hangi ikisi yer değiştirmelidir?

- A) 1 ve 2
- B) 3 ve 4
- C) 4 ve 5
- D) 1 ve 5

SORU 25. “Karıdaki evin yanında benimki duruyor. Mavi kapılı.” Cümlesinde geçen ve altı çizili olan sözcüklerdeki “-ki” eklerinin türleri hangi seçenekte sırası ile doğru olarak verilmiştir?

- A) İlgî zamiri – sıfat.
- B) Sıfat – ilgi zamiri.
- C) İlgî zamiri – ilgi zamiri.
- D) Sıfat – sıfat.

SORU 26. Aşağıdaki tabloda eylemlerin (fiillerin) zaman ve kişileri belirtilmiştir. Buna göre hangisinde bir yanlışlık yapılmıştır?

	Fiil	Zamanı	Kişisi
A)	Koşuyoruz	Şimdiki zaman	1.Çoğul kişi
B)	Okuyacaksın	Gelecek zaman	2.Tekil kişi
	Yazdınız	Geçmiş zaman	2.Çoğul kişi
30 Mart 2016	Bilirler	Şimdiki zaman	3.Çoğul kişi

FEN VE TEKNOLOJİ TESTİ

- C)
- D)

SORU 27. “Düğüne gelen misafirler gelin ile damada mutluluklar dileyerek onları tebrik ettiler.” cümlesinde geçen ve altı çizili olan adın (ismin) özellikleri aşağıdaki seçeneklerden hangisinde doğru olarak verilmiştir?

- A) Cins isim – çoğul isim – somut isim
- B) Özel isim – çoğul isim – soyut isim
- C) Topluluk ismi – çoğul isim – soyut isim
- D) Cins isim – çoğul isim – soyut isim

SORU 28. “Evimi yapıp ıssız adayı az çok öğrenince, bazı şeyler yetiştirmeyi düşündüm. Bu işi başarmak kolay değildi. Fakat, bütün zorlukları yenmeye kararlıyım.” diyen bir kişi için aşağıdakilerden hangisi söylenebilir?

- A) Açıkgöz - korkusuz
- B) Kararlı - tutumlu
- C) Dengeli - inandırıcı
- D) Azimli - çalışkan

SORU 29. Aşağıdaki cümlelerin hangisinde küçümseme vardır?

- A) Benim o küçük adama güvenim kalmadı.
- B) Arkadaşım, fen bilgisi sınavından zayıf almış yazık.
- C) Bunca yıl Dünya'nın en büyük üniversitelerinde devlet memuru olmak için mi okudun?
- D) Dersini su gibi biliyordu.

SORU 30. Aşağıdaki cümlelerin hangisinde altı çizgili olan sözcük iyelik eki almıştır?

- A) İşleri olmadığı için başkasının yanında çalışıyorlar.
- B) Resimleri mutlaka albümlere yerleştirmeliyiz.

FEN VE TEKNOLOJİ TESTİ

- C) Masaları iyice silmedikleri için kahvaltı yapamadık.
D) Çiçekleri her gün sulamak iyi değildir.

SORU 31. Vazife, büyük şey değil, ne kadar olursa olsun yapmaktır.

Yukarıdaki cümleyi en anlamlı bir şekilde tamamlayan kelime üçlüsü aşağıdakilerden hangisidir?

- A) bitirmek – çok – hatasız
B) düşünmek – küçük – sorarak
C) olmak – güç – kolay
D) yapmak – küçük – gerekeni

SORU 32.

I. daha çok inanır. II. insan III. duyduğu IV. ya da V. işittiği şeyden VI. gördüğü şeye

Yukarıdaki kelime ve kelime gruplarının anlamlı ve kurallı bir cümle oluşturacak biçimde sıralanışı hangi seçenekte doğru olarak verilmiştir?

- A) II – I – IV – III – VI - V
B) V – II – VI – IV – III - I
C) II – VI – III – IV – V - I
D) VI – III – IV – V – I – II

SORU 33. Piknik yapmaya giden ailenin küçük kızı ormanın güzelliklerine dalınca açlığını unuttu.

Yukarıdaki cümlede geçen “dalmak” sözcüğü, aşağıdaki cümlelerin hangisinde aynı anlamda kullanılmıştır?

- A) Babam işten yorgun geldiği için yatağına uzandığı anda uykuya daldı.

FEN VE TEKNOLOJİ TESTİ

- B) Arkadaşlarla sohbete dalınca vaktin nasıl geçtiğini anlayamadık.
C) Dalgıç, adamı kurtarmak için yirmi metre derine daldı.
D) Kalabalığa dalan çocuk, bir anda gözden kayboldu.

Ilgaz Dağı, Koca Ilgaz Dağı, ne güzel ne heybetli idi. Şimdi Çankırı'ya bayır bayır inmeye başladık. Çamlıklar seyrekleşiyor. Kırmızı topraklı tepeler sıra sıra uzanıyordu. Başımı arkaya çevirip baktım. Anadolu'nun bu yüksek dağı, bu eşsiz ormanlığı aynı büyüklük ve güzellikle yerinde duruyordu.

Aşağıdaki 2 soruyu yukarıdaki paragrafa göre yanıtlayınız.

SORU 34. Parçaya göre aşağıdakilerden hangisi Ilgaz Dağı'nın özelliklerinden değildir?

- A) Tepelerinin sıra sıra dizilmesi.
B) Yüksek bir dağ olması.
C) Su kaynaklarının çok olması.
D) Ormanlıklarla kaplı olması.

SORU 35. Ilgaz Dağı'nın, yazar üzerinde bıraktığı etki aşağıdakilerden hangisidir?

- A) Merak
B) Hayret
C) Hayranlık
D) Şaşkınlık

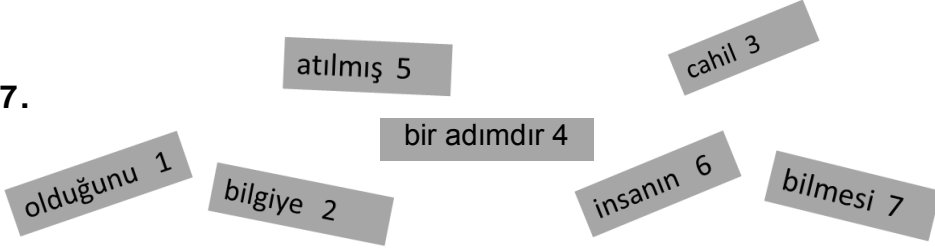
SORU 36. "Bak, gücün yettiği, gözün alabildiği kadar bak. Uzağa bak, yakına bak. Kül rengi tepelerde yeşili ara. Eğer bir tutam yeşil bulabilirsen çocuklara göster." diyen bir kişi için aşağıdakilerden hangisi söylenemez?

- A) Kaygılı olduğu.
B) Umutlu olduğu.
C) Üzgün olduğu.

FEN VE TEKNOLOJİ TESTİ

D) Duyarlı olduđu.

SORU 37.



Yukarıdaki kâğıt parçacıklarının üzerinde yazılı bulunan sözcüklerle kurallı va anlamlı bir cümle oluşturmak istersek sıralama aşağıdakilerden hangisi olur?

- A) 2 – 5 – 4 – 6 – 3 – 1 – 7
B) 6 – 3 – 1 – 7 – 2 – 5 – 4
C) 6 – 7 – 3 – 1 – 2 – 5 – 4
D) 3 – 6 – 7 – 2 – 5 – 1 – 4

SORU 38. 1. Verilen işi yine.

2. Bu kötü hareketi yetti.

3. Şu çocuđu, nereden acaba.

4. Gün boyunca esnedi, sanırım.

a.

b.

c.

d.

Yukarıdaki cümlelerde boş bırakılan noktalı yerlere, harflerle belirtilmiş deyimler getirilecektir. Buna göre aşağıdakilerden hangisinde cümlelere gelecek deyimler doğru olarak eşleştirilmiştir?

- A) (1-c), (2-b), (3-a), (4-d)
B) (1-b), (2-d), (3-a), (4-c)

FEN VE TEKNOLOJİ TESTİ

C) (1-a), (2-d), (3-b), (4-c)

D) (1-b), (2-a), (3-c), (4-d)

SORU 39. Aşağıdaki cümlelerde geçen ve altı çizili olan bir sözcüğü hangisinde sayı sıfatı olarak kullanılmıştır?

A) Cevaplayamadığım sadece bir soru oldu.

B) Hava akşama doğru serinleyebilir, yanına kalınca bir hırka alırsan iyi olur.

C) Yarın okuldan bir arkadaşım misafirimiz olacak.

D) Sınıf arkadaşlarımızla kısa bir gezi planladık.

SORU 40. Meyveye duran ağaç gibi
Bereketlidir çocuklar.
Eşitliği, bölüşmeyi
Yüreğine, beynine taşır çocuklar.
Birlik ve dayanışmayı
Okuldan okyanuslara
Bir kaçınılmazı taşır çocuklar.

Yukarıdaki şiirde esas vurgulanmak istenen duygu aşağıdakilerden hangisidir?

A) Çocukların ağaç ve doğa sevgisi

B) Ağaçların çok meyve verdiği

C) Çocukların okyanusları çok sevdiği

D) Çocukların verimliliği

SORU 41. “Evden çıkarken ocağı kontrol etmedin, pencereleri sıkı sıkı kapatmadın iyi ki kapıyı olsun kilitledin.” Cümlesinde kaç tane çekimli fiil vardır?

A) 3

B) 2

C) 1

D) 4

FEN VE TEKNOLOJİ TESTİ

SORU 42. “Çok zaman olmuş görüşmeyeli; ama yakın dostluğumuz sayesinde yeniden iyi bir ilişki kurabildik.” cümlesinde kaç tane sıfat vardır?

- A) 4
- B) 5
- C) 2
- D) 3

SORU 43. Bu lokantaya gitmeyi çok severim, çünkü isteyen orada her zaman kitap gazete okuyabiliyor.

Yukarıdaki cümledeki boşluklara, aşağıdaki seçeneklerden hangileri getirilirse kitap ve gazeteden sadece birinin okunduğu anlaşılır?

- A) hem – hem de
- B) ya – ya da
- C) ne – ne de
- D) için – ve de

SORU 44. Aşağıdaki sözcükleri, sözlük sırasına göre sıraladığımızda kaç tanesi “kıskanılmak” sözcüğünden önce gelir?

Kıskanılma, kıskanış, kıskanmak, kıskandırmak, kıskançlık, kısıki, kıskaç

- A) 4
- B) 3
- C) 2
- D) 5

FEN VE TEKNOLOJİ TESTİ

SORU 45. Aşağıdaki sözcüklerden hangisi hecelerine doğru ayrılmıştır?

- A) Kel – oğ – lan
- B) Baş – öğ –ret – men
- C) Kı – zıl – ır – mak
- D) Ba – şör – tü – sü

SORU 46. Aşağıdaki sözcük grubu içinde, birbirleriyle zıt anlamlı sözcükler karışık olarak verilmiştir. Hangi sözcüğün zıt anlamlı karşılığı, bu grup içinde yer almamıştır?

Yukarı – kolay – iyi – uzun – aşağı – kötü – sevinçli – zor – üzgün

- A) uzun
- B) kolay
- C) kötü
- D) aşağı

SORU 47. Bir kurumda, bir toplumda dengesizlik, bozukluk varsa mutlaka o kurumun ya da toplumun yöneticileri iyi çalışmıyor demektir. Çünkü herkesin gözü yöneticilerdedir. Onlar doğru yoldan çıkarsa onu izleyenler de bozular, yöneticilerine benzerler.

Yukarıdaki açıklama aşağıdaki atasözlerinden hangisine en uygun bir açıklamadır?

- A) Balık baştan kokar.
- B) Ne ekersen onu biçersin.
- C) İyi yöneticiler devleti iyi, kötü yöneticiler ise kötü yönetir.
- D) İğneyi kendine çuvaldızı başkasına batır.

FEN VE TEKNOLOJİ TESTİ

SORU 48. “-de” eki “topaç” sözcüğüne eklendiği zaman “topaçta” olur. Buna göre, bu sözcükte meydana gelen değişiklikleri hangi seçenek doğru olarak gösterir?

- A) Ünsüz yumuşaması – ünsüz sertleşmesi
- B) Ünsüz sertleşmesi – ünsüz sertleşmesi
- C) Ünsüz sertleşmesi – büyük ünlü uyumu uygunluğu
- D) Büyük ünlü uyumu uygunluğu – ünsüz yumuşaması

SORU 49. “Bir olay yüzünden aşırı derecede korku ve telaş içine düşen adam evde üç gün hasta yattı.”

Yukarıdaki cümlelerin kaç yerinde ulama vardır?

- A) 5
- B) 4
- C) 3
- D) 2

SORU 50. Aşağıda verilen cümlelerde, altı çizili olan sözcüklerden hangisinin yazılışında bir yanlışlık yapılmıştır?

- A) 30 Martta yapılacak sınav için kitaptan sadece 5. ve 6. üniteleri çalışmalıydınız.
- B) Tren istasyonunda çalışan biletçi sahtelik yapıyordu.
- C) Avrupa ülkelerinde küçük çocuklara içki satışı yasaktır.
- D) Birlikte proje çalışması yaptığımız için kalemlerim Ahmet’de kaldı.

**TÜRKÇE TESTİNİZ BİTMİŞTİR.
YANITLARINIZI KONTROL EDEREK SOSYAL BİLGİLER TESTİNE GEÇİNİZ.**

